



اسم و فامیل: ..... آزمون فصل ۴ ریاضی تاریخ: .....

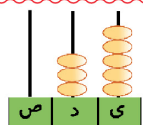
۱- هر شکل چه عددی را نشان می دهد؟ بخوان و بنویس و در جدول قرار بده.

|   |     |         |        |
|---|-----|---------|--------|
|  | یکی | ده تایی | صدتایی |
|   |     |         |        |


به رقم: ..... به حروف: .....

|  |     |         |        |
|--|-----|---------|--------|
|  | یکی | ده تایی | صدتایی |
|  |     |         |        |

به رقم: ..... به حروف: .....

|   |     |         |        |
|---|-----|---------|--------|
|  | یکی | ده تایی | صدتایی |
|   |     |         |        |

به رقم: ..... به حروف: .....



|  |     |         |        |
|--|-----|---------|--------|
|  | یکی | ده تایی | صدتایی |
|  |     |         |        |

به رقم: ..... به حروف: .....

۲- با رقم های ۰ و ۳ و ۵ کوچک ترین و بزرگ ترین عدد ۳ رقمی را بنویس.

بزرگ ترین ..... و کوچک ترین .....

۳- سکه های زیر را با توجه به هر دستگاه خرد کن.

|   |           |       |
|---|-----------|-------|
|  | ۱۰۰ ریالی | ..... |
|  | ۱۰ ریالی  | ..... |

۴- قبل و بعد هر عدد را بنویس.

|       |     |       |       |     |       |
|-------|-----|-------|-------|-----|-------|
| ..... | ۱۰۴ | ..... | ..... | ۲۲۵ | ..... |
| ..... | ۹۹  | ..... | ..... | ۷۱۶ | ..... |

۵- در جاهای خالی عدد مناسب بنویس.

۳ یکی و ۵ ده تایی و نه صدتایی برابر است با .....

- یکانم کوچک ترین عدد یک رقمی، دهگانم یکی از یکانم بیشتر است و صدگانم ۸، من عدد ..... هستم.

- ..... یکی و ..... ده تایی و ..... صدتایی برابر است با ۳۰۵

۶- پاسخ درست را علامت بزن.

یک بسته ی صد تایی برابر است با ۱۰ تا.....

بعد از عدد ۵۴۹، عدد ..... می آید.

به ربع بعد از ساعت ۲:۳۰ می شود ساعت ...

- |                            |                                      |                                     |
|----------------------------|--------------------------------------|-------------------------------------|
| <input type="radio"/> یکی  | <input type="radio"/> بسته ی ده تایی | <input type="radio"/> بسته ی صدتایی |
| <input type="radio"/> ۵۴۸  | <input type="radio"/> ۵۵۲            | <input type="radio"/> ۵۵۰           |
| <input type="radio"/> ۲:۱۵ | <input type="radio"/> ۲:۴۵           | <input type="radio"/> ۳:۰۰          |

۷- جمع و تفریق های زیر را انجام بده .

$$200 + 300 = \square$$

$$800 - 200 = \square$$

$$120 + 5 = \square$$

$$\begin{array}{r} 109 \\ + 3 \\ \hline \end{array}$$

$$\begin{array}{r} 115 \\ - 9 \\ \hline \end{array}$$

$$\begin{array}{r} 93 \\ + 8 \\ \hline \end{array}$$

$$\begin{array}{r} 252 \\ - 12 \\ \hline \end{array}$$

$$\begin{array}{r} 325 \\ - 46 \\ \hline \end{array}$$

۸- عددهای هر عبارت را ابتدا به صورت تقریبی (حذف یکان و دهگان) بنویس سپس حاصل تقریبی آن ها را بدست بیاور.

$$\begin{array}{r} 825 \\ + 125 \\ \hline \end{array} + \dots\dots\dots$$

$$\begin{array}{r} 937 \\ - 248 \\ \hline \end{array} - \dots\dots\dots$$

$$\begin{array}{r} 658 \\ - 349 \\ \hline \end{array} - \dots\dots\dots$$

۹- در قلک حسن ۸۴۹ ریال بود که صبح امروز ۳۴۸ ریال آن را خرج کرد . حالا در قلک حسن تقریباً چند ریال باقی مانده است ؟

۱۰- شمردن را طبق الگو ادامه بده .

|       |       |       |       |       |       |       |       |
|-------|-------|-------|-------|-------|-------|-------|-------|
| $280$ | $270$ | ..... | ..... | ..... | ..... | ..... | ..... |
| $824$ | $826$ | ..... | ..... | ..... | ..... | ..... | ..... |
| $398$ | $399$ | ..... | ..... | ..... | ..... | ..... | ..... |

۱۱- زمان خواسته شده را روی هر ساعت پرنگ کن.

|             |         |                   |                    |
|-------------|---------|-------------------|--------------------|
|             |         |                   |                    |
| یک ربع به ۳ | ۴ و نیم | ده دقیقه بعد از ۴ | یک ربع بعد از ۷:۳۰ |

