

* عزیزم ، به موش کوچولو کمک کن تا ساعت هارا به دو صورت بخواند .



.....
.....



.....
.....



یک ربع مانده به ۱
۱۲ : ۴۵



.....
.....



* زمان را روی هر ساعت نشان بده .

یک ربع مانده به ۱۱



نیم ساعت مانده به ۴



یک ربع مانده به ۶




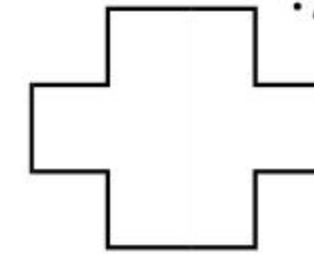
ده و ربع



هشت و نیم



* ریاضیدان کوچک با رسم ۲ خط هر شکل را به ۴ قسمت مساوی تقسیم کن .



۶-۸-۱۱-۱۵ -.....-.....-.....-.....

۵۵-۵۹-۶۳ -.....-.....-.....-.....

۷۶-۷۹-۸۱ -.....-.....-.....-.....

* الگوها را کامل کن

.....

* کلاس محمد ۳۲ دانش آموز و کلاس علی ۲۸ دانش آموز دارد . چند دانش آموز در این دو کلاس هستند ؟

- روز گذشته ۳۷ نفر از این دو کلاس به اردو رفتند . چند نفر به اردو نرفته اند ؟

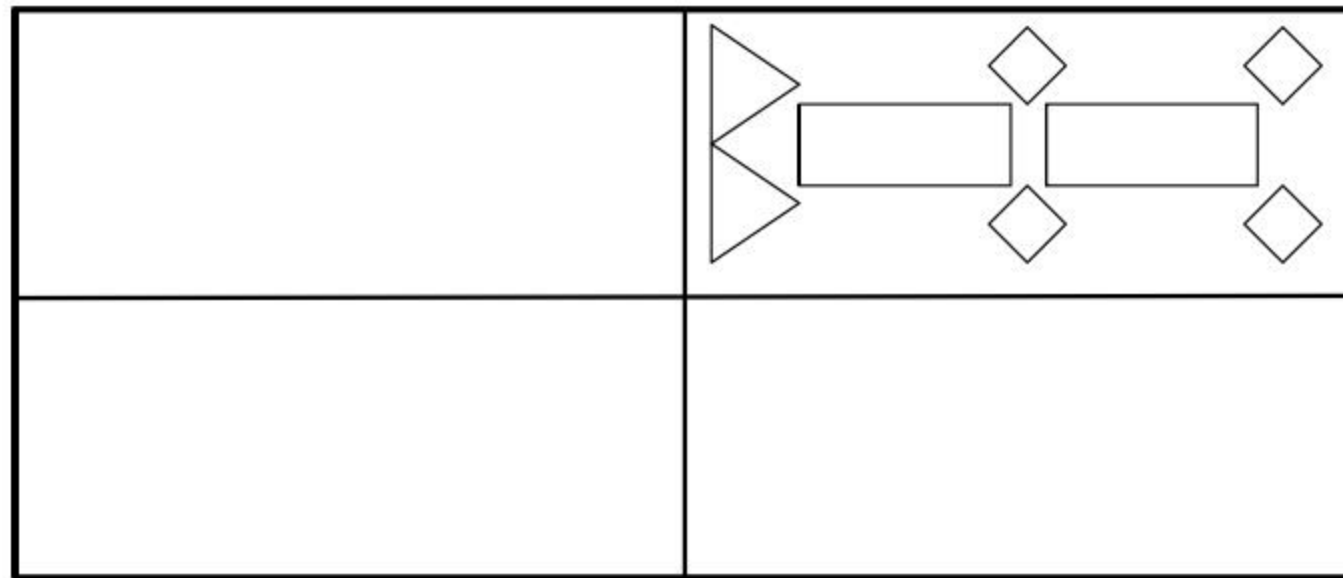
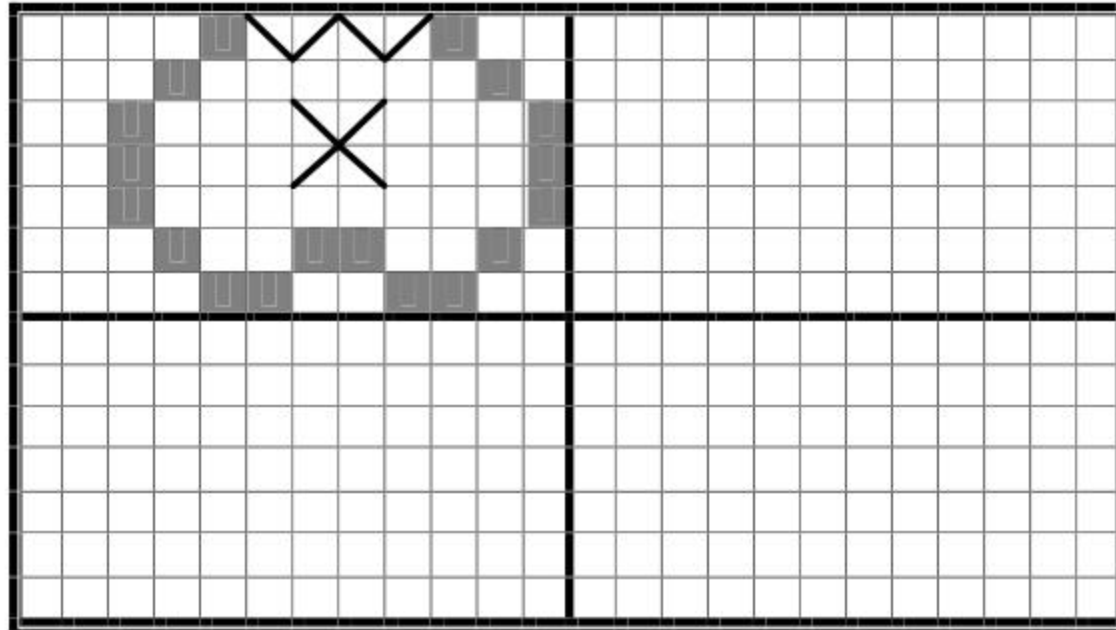
.....

* جمع و تفریق کن . $۱۷-۸=.....$ $۶۰-۴۰=.....$ $۳۰+۵۰=.....$ $۱۰+۸+۱۰+۵+۵+۱۰+۲۰=.....$

* حاصل عبارت روبرو را روی محور نشان بده . $۵+۹-۶=.....$



* گل نازم ، شکل فرش و کاشی کاری را طوری کامل کن که هر ۴ قسمت کاملاً مثل هم باشند .



* چند عدد دورقمی می توانی بنویسی که دهگان ۹ و ۴ و یکان ۳ و ۷ و ۶ باشد ؟ (منظم بنویس)

حالا با توجه به اعدادی که نوشتی به سوالات زیر پاسخ بده .

(۱) اعدادی که دهگان ۹ است را از بیشتری به کمتری مرتب کن .

(علامت مناسب را بین آنها بگذار)
.....

(۲) بیشترین عدد و کمترین عدد است .

(۳) حاصل تفریق تقریبی بیشترین و کمترین عدد را بنویس .

(۴) از بیشترین عدد ۴ ده تایی کم کن می شود حالا با کم ترین عدد جمع بزن .