


ساعت

هر عبارت را بخوان و پاسخ درست را روی ساعت نشان بده. می توانی دومرحله را با رنگ های متفاوت کار کنی .



- مجید ساعت ۹ و ده دقیقه از خانه خارج شد و یک ساعت و بیست دقیقه ی بعد به خانه برگشت .مجید ساعت چند به خانه

برگشته است؟.....




- مریم ساعت یک شروع به خواندن داستان کرد .دوساعت و نیم بعد ،از خواندن خسته شد. مریم چه ساعتی از خواندن داستان

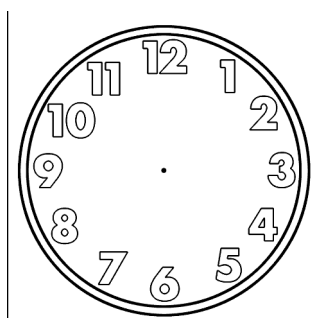
دست کشید؟.....




- اگر الان ساعت سه و چهل دقیقه باشد ، بیست دقیقه قبل ساعت چند بوده است؟.....




- اگر عقربه کوچک ساعت بین ۷ و ۸ باشد وعقربه ی بزرگ روی عدد سه ،دوساعت دیگر ساعت چند می شود؟.....




روی هر ساعت ، زمان خواسته شده را نشان بده .




سی دقیقه به ۷



پنج و ربع



یک ربع به ۴



دو و نیم

پول

درجای خالی عدد مناسب بنویس



۲۰۰۰ ریال = تومان

۵۰۰۰ ریال = تومان

۱۰۰ تومان = ریال

سه سکه ۱۰ ریالی و ۸ سکه ۱ ریالی = ریال

یک سکه ۱۰۰ ریالی = سکه ۱۰ ریالی

یک سکه ۱۰۰ ریالی = سکه ۱ ریالی

سحر برای خریدن یک مداد ۵۰ ریالی، باید چند سکه ۱۰ ریالی به فروشنده بدهد؟.....

سکه بکش

۱۰۰ ریال

۳۹ ریال

۶۷ ریال
