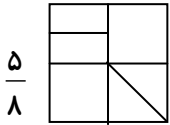


ریاضی



۱ به اندازه ی کسر داده شده از هر شکل رنگ کنید.



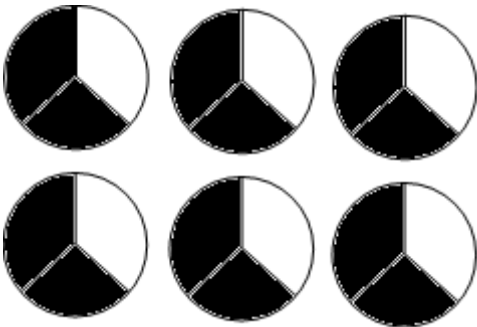
۲ مقایسه کنید و علامت < = > بگذارید.

ربع واحد + $\frac{3}{4}$ تا خمس واحد

$$\frac{19}{17} \square \frac{23}{25} + \frac{2}{25}$$

۳ تفاوت دو عدد ۶۲۰ و مجموع آن ها ۴۲۰۰ می باشد. عدد بزرگ تر چند است؟

۴ کدام گزینه مربوط به شکل های رنگی است؟



$\frac{2}{3}$

$\frac{2}{4}$

۴

$\frac{1}{3}$

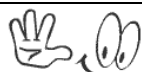
۵ از ۸ برابر عددی ۸ تا کم می کنیم ، می شود ۶۴. آن عدد چیست؟

۶ محمد ۹۰ تخم مرغ ، دانه ای ۱۲۰ تومان خرید. در بین راه ثلث تخم مرغ ها شکست ، او بقیه را دانه ای چند بفروشد تا در کل ۳۶۰۰ تومان سود کرده باشد؟

۷ در \square و \bigcirc چه رقم هایی می توان نوشت تا عدد حاصل بر ۲ و ۳ و ۵ بخش پذیر باشد.

۴ ۳۷

<p>محیط شکل مقابل چند سانتی متر است؟</p>  <p>۵</p> <p>۶</p>	۸
<p>اگر داشته باشیم $7 = 5 - \frac{\square}{3}$ مقدار \square چند می شود؟</p>	۹
<u>علوم</u>	
<p>نظریه چیست؟</p>	۱
<p>آزمایشی بنویسد که نشان دهد، مولکول ها دارای ربایش هستند.</p>	۲
<p>تغییر شیمیایی را با ذکر دو مثال تعریف کنید.</p>	۳
<p>جاهای خالی را با کلمه های مناسب کامل کنید.</p> <p>الف) نام علمی زنگ آهن است.</p> <p>ب) آهن در هوای دچار تغییر شیمیایی می شود.</p> <p>ج) در تغییرات فیزیکی ماده تغییر نمی کند.</p>	۴
<p>۳۲ مولکول آب از اتم ئیدروژن و اتم اکسیژن تشکیل می شود.</p>	۵



موفق و پیروز باشید.

خ	خ	خ	ن