

۱۴۵- یک نقطه خارج از خط در نظر بگیر. سپس با استفاده از گونیا خطی بکش که از آن نقطه بگذرد و بر خط عمود باشد .

۱۴۶- پاره خطی به طول ۶ سانتی متر بکش . سپس عمود منصف آن را رسم کن .

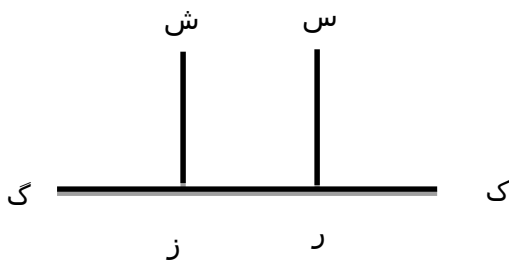
۱۴۷- هر پاره خط عمود منصف دارد .

۱۴۸- دو خط متقاطع عمود بر هم رسم کن .

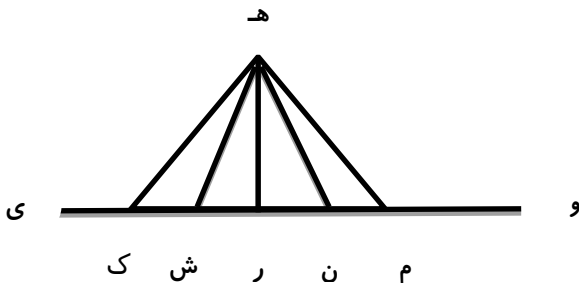
۱۴۹- از برخورد دو خط متقاطع چه زاویه هایی ممکن است به وجود بیاید ؟

۱۵۰- از یک نقطه خارج از خط چند خط عمود می توان بر آن رسم کرد ؟

۱۵۱- آیا دو نیم خط (س ر) و (ش ز) با هم موازیند؟ دلیل بیاور.



۱۵۲- در شکل زیر کدام پاره خط فاصله ی نقطه ی (هـ) تا خط (و ی) را نشان می دهد ؟



۱۵۳- حاصل ضرب های زیر را به دست بیاور.

$$\begin{array}{r} 350 \\ \times 241 \\ \hline \end{array}$$

$$\begin{array}{r} 7406 \\ \times 317 \\ \hline \end{array}$$


۱۵۴- در جای خالی چه عددی باید قرار داد؟

$$۳۵۰ \times ۲۳۰ \times ۴۱ = ۴۱ \times ۲۳ \times ۳۵ \times \boxed{}$$

۱۵۵- در یک فروشگاه ۳۵۰ کیسه برنج وجود دارد. اگر در هر کیسه ۱۵ کیلوبرنج باشد در این فروشگاه کلا چند کیلوبرنج هست؟



۱۵۶- سعید در هر ماه ۲۵ روز ورزش می کند. اگر هر بار ورزش او ۱۲۵ دقیقه طول بکشد در ۲۵ روز چند دقیقه ورزش کرده است؟



۱۵۷- اگر ۳۵۰ کارتن تخم مرغ داشته باشیم و در هر کارتن ۲۲۰ عدد تخم مرغ باشد جمعا تعداد تخم مرغ ها چند تاست؟



۱۵۸- محصول جو یک کشاورز امسال ۹۵ کیسه ی ۲۵ کیلویی بود. این کشاورز چند کیلو جو برداشت کرده است؟

۱۵۹- طرف دوم تساوی های زیر را بنویس .

$$۳۶۰۰ - (۲۵۰ - ۱۷۱) = \boxed{}$$

$$۲۰۰ \times (۵۰ - ۲۵) = \boxed{}$$

$$۷۸۶۵ - (۴۳۵۱ + ۱۰۰۰) = \boxed{}$$

$$۴۲ \times (۴۲ - ۲۰) = \boxed{}$$

۱۶۰- رضا ۵۰ دفتر صدبرگ خرید که قیمت هر دفتر ۱۶۵۰ تومان بود. چه قدر پول به فروشنده باید بدهد؟