

علی در عرش بالا بی نظیر است

علی بر عالم و آدم امیر است

به عشق نام مولایم نوشتم

چه عیدی بهتر از عید غدیر است؟

والدین گرامی : خواهشمندیم فقط نظارت فرمایید و از گفتن پاسخها خودداری فرمایید


نام دختر گلم :

تلاش هفته ی چهارم مهر ماه ۹۳-۹۲

کلاس سوم



دخترم ! برای تشکر از خداوند چه راههایی را پیشنهاد میکنی .

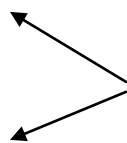


معنی ملائکه در آیه صلوات چیست ؟

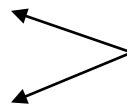


فرزندم چه تفاوت ها و شباهت هایی بین ما انسان ها وجود دارد ؟

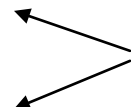
عزیزم برای کلمات زیر هم خانواده بنویس .



عالم



ناظم



صبر

دخترم متن زیر را با دقت بخوانید. غلط های املائی را بیابید و شکل درست آن ها را بنویسید.

باران پاییزی از شب گذشته آغاز شده بود . مربی ورزش به کلاس آمد و گفت امروز می خاهم در مورد رشته ی ورزشیه مورد علاقه ی خودتان صحبت کنیم . دلم میخاهد همه در بحص شرکت کنید و نضرات خود را بیان کنید.



فرزندم معنی کلمات زیر را بنویس

غرق شدن: هم بازی : طراوت: روان: گویا: نشاط:
نرم نرمک: شبیه: باستانی: ماهرانه: پیوسته: حیرت:

جای خالی را با کلمات مناسب پر کن .

من برای نماز خواندن به مسجد محله

..... می رویم.

..... برای نماز خواندن مسجد محله می روی.

..... شما برای نماز خواندن به مسجد محله

..... او

..... آن ها

اگر سه شنبه اولین روز مهر باشد تا پایان مهر چند تا جمعه داریم؟



الگوی زیر را ادامه بده .

568-558-548-.....-.....-.....

۲۱-۱۸-۲۳-۲۰-.....-.....-.....

پدر لاله ۴ فرزند به نام های سوسن، سارا، سارینا دارد که فاصله ی سنی هر کدام از آنها ۳ سال است. اگر کوچکترین دختر ۷ سال داشته باشد سومین دختر چند ساله است؟

فرزند اول چند سال دارد؟

اختلاف سن فرزند اول و اخر چند سال است؟

مکعب از ۶ و مکعب مستطیل از درست شده است .



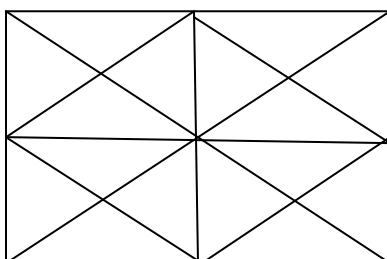
دخترم! روی ساعت کارهایی را که در روز عید غدیر انجام دادی نشان بده .



چند ساعت درس خواندید ؟

چند ساعت به خواب و استراحت پرداختید ؟

فرزندم! خط تقارن شکل زیر را رسم کن و با توجه به خط تقارن رنگ آمیزی کن .



تعداد مثلث های کوچک شکل را با توجه به خط تقارن بشمار .

دخترم با توجه به هرم غذایی، زیر هر تصویر بنویس مربوط به کدام گروه است. سپس به طور مختصر نقش آنرا در بدن بنویس.



دخترم تصویر را با دقت نگاه کن و داستانی کوتاه برای آن بنویس

