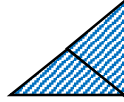
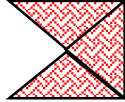



آموزگار پایه پنجم: گلچین



۱- جمع مربوط به هر شکل را بنویس.



۲- حاصل جمع های زیر را بنویس.

$$\frac{10}{5} + \frac{5}{5} =$$

$$\frac{24}{25} + \frac{15}{25} =$$

$$\frac{1}{6} + \frac{2}{6} =$$

$$\frac{5}{7} + \frac{4}{7} =$$

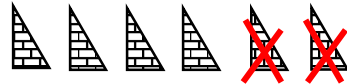
۳- علی  $\frac{3}{9}$  کیک و رضا  $\frac{5}{9}$  آن را خوردند. چه کسری از کیک خورده شده است؟

چه کسری از کیک باقی مانده است؟

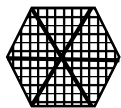
۴- سپهر ۲۵ تخم مرغ خرید. خمس آن ها را املت درست کرد.

چند تخم مرغ دیگر برایش مانده است؟

آموزگار پایه پنجم: گلچین



۱- تفریق مربوط به هر شکل را بنویس.



۲- حاصل تفریق های زیر را بنویس.

$$\frac{3}{8} - \frac{1}{8} =$$

$$\frac{6}{7} - \frac{1}{7} =$$

$$\frac{14}{28} - \frac{12}{28} =$$

$$\frac{12}{18} - \frac{8}{18} =$$

۳- مسئله بساز.

۴- سه کسر بنویس که مجموع آن ها برابر  $\frac{19}{8}$  باشد.