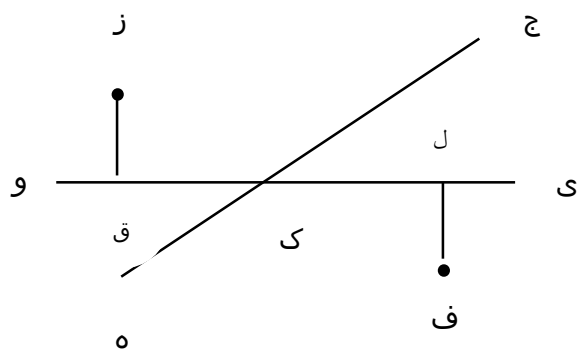
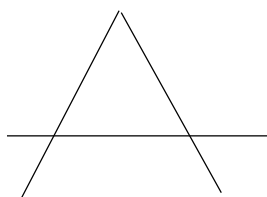


۲۳- با توجه به شکل ؛ نام پاره خط ها ، نیم خط ها و خط های راست را بنویس .




۲۴- از یک نقطه روی خط ، چند نیم خط می توان رسم کرد ؟

۲۵- در این شکل چند نیم خط میبینی ؟



۲۶- هر پاره خط چند نقطه وسط دارد ؟

۲۷- روی خط (ک گ) دو نقطه مشخص کن . حالا بنویس چند پاره خط و نیم خط درست شده است ؟



نکته (۱) : برای به دست آوردن تعداد پاره خط ها این گونه عمل می کنیم :

$$\{ \text{تعداد نقطه ها} \times (\text{تعداد نقطه ها} - ۱) \} \div ۲$$

مثال : چند پاره خط روی این خط راست وجود دارد ؟



$$\{ ۸ \times (۸ - ۱) \} \div ۲ = ۲۸$$

نکته (۲) : برای به دست آوردن تعداد نیم خط ها این گونه عمل می کنیم :

$$\text{تعداد نقطه ها} \times \text{تعداد نیم خط ها} =$$

روش اول:



$$۴ \times ۲ = ۸$$



تعداد نیم خط ها = ۴

۲۸- در یک مدرسه از ۸۴۵ دانش آموز ۱۲۳ تا برای بازدید به اداره ی آتش نشانی و ۳۵۴ تا برای بازدید به خانه ی سالمندان رفتند . چند دانش آموز هنوز به اردو نرفته اند ؟

۲۹- مجموع پول سه نفر ۴۵۱۳۲ تومان است . اگر پول اولی ۱۴۴۱۰ تومان و پول دومی ۱۰۰۰۰ تومان بیشتر از پول اولی باشد ، پول سومی چند تومان است ؟

۳۰- مسئله ای بنویس که عبارت $(۲۲۶۰ + ۱۲۸) - ۳۴۰۰$ راه حل آن باشد .

۳۱- در جای خالی عدد مناسب بنویس .

$$(۷۶ + ۹۹) + ۹۳ = \text{-----} + ۹۳ = \text{-----}$$

$$۱۶۵ + (۱۱۰ + ۲۸) = ۱۶۵ + \text{-----} = \text{-----}$$

$$۴۰۰۰ - (۶۰۰ + ۱۳۸۰) = \text{-----}$$

لحظه های شادی را برایت آرزو می کنم گل نازنینم!

