



به نام خدا کار در کلاس پنجم نام و نام خانوادگی:



از سه درس آخر که خواندی جملاتی انتخاب کن که موارد خواسته شده را داشته باشد.

مفعول	گزاره	ضمیبری که نهاد باشد

جدول با توجه به کلمات زیر پر کنید.

همت، فانی، باقی، جسور، تلاش، جسارت

مترادف	متضاد	هم خانواده

از درس افغانستان در جغرافی. خاک زندگی بخش در علوم: اسم و صفت ها را جدا کرده و بنویس

ترکیب های وصفی:

.....

با کلمات (سرود ملی، افتخار، موزون و مختصر) نوشته ای در دو سطر بنویس.

.....

.....

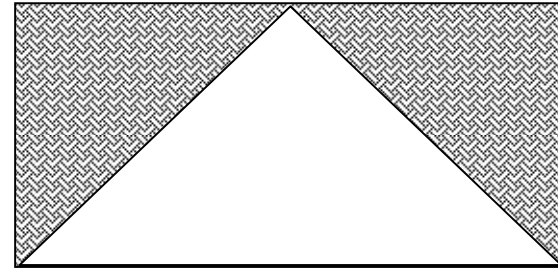
جمع کلمات: ناحیه مدرسه صابر و شغل را بنویسید.

.....



در شکل مقابل مساحت قسمت رنگی را حساب کنید.

(طول ۸ عرض ۶ س م)



نسبت سن محمد به سن پدرش مثل یک به چهار است. اگر خمس مجموع سن آن ها ۱۱ سال باشد.

الف: سن محمد چقدر است.

ب: سن پدرش چقدر است؟

عرض زمینی مستطیل شکل نصف طول آن است. اگر عرض این مستطیل ۴/۵۶ متر باشد. مساحت این

زمین را حساب کنید.

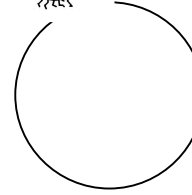
تبدیل واحد های زیر را انجام دهید

متری	سانتی متر	میلی متر
۲/۰۶		
	۴۲۸	

علی برای شرکت در راهپیمایی گرمی داشت روز ۲۲ بهمن ساعت ۹ ۱۲ ۹ از منزل خارج شد و

ساعت ۱ عصر به خانه برگشت. او چه مدت در بیرون بوده است؟

لایه های زمین را با رسم در شکل مقابل بنویس.



روش به وجود آمدن سنگ های رسوبی را توضیح دهید



.....
.....

کامل کن :

آتشفشان خاموش

آتشفشان نیمه فعال

آتشفشان فعال



روش های به وجود آمدن خاک را بنویسید

.....
.....

تغییر شیمیایی را با ذکر مثال تعریف کنید.

.....
.....

ترکیب را تعریف کرده و برای آن مثالی بزنید.....

.....
.....

منشور چیست؟.....

.....
.....

از درس " نگین " چه فهمیده ای؟ بصورت خلاصه بنویس.

.....
.....

محصولات کشاورزی عراق را با افغانستان مقایسه کنید.

.....
.....

انواع روشهای دامپروری در ایران را نام ببرید.

.....
.....

سه مورد از شهرهای بندری ترکیه را نام برده و بنویسید هر کدام در کنار کدام دریا هستند؟

.....
.....

وظایف مردم در مقابل حکومت اسلامی را بنویسید.(۴مورد)

.....
.....

علت عدم موفقیت مردم ایران در مقابله با مغولان چه بود؟

.....
.....

حکومت هایی که توسط جانشینان تیمور و جانشینان چنگیز در ایران به وجود آمد چه نام داشتند؟