



نام : ..... معلم : ..... مطالعات اجتماعی - نام دبستان : .....

نمودار زمانی هر کدام را ترسیم کنید . ( با توجه به صفحه ی ۶۸ مطالعات اجتماعی ششم )


برنامه ی آرمانی روزانه ی زندگی خود در آینده



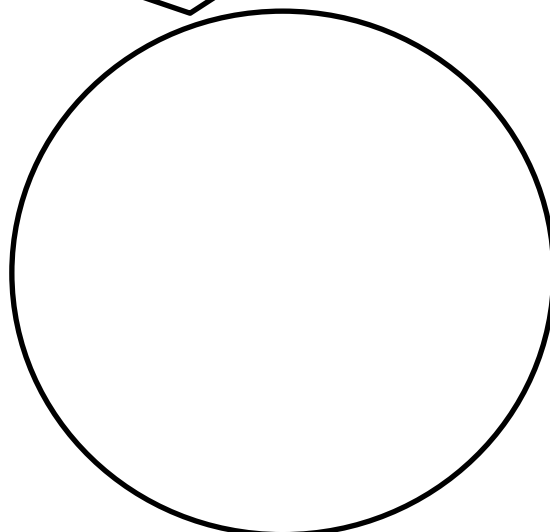
برنامه ی روزانه ی زندگی خود



برنامه ی درسی هفتگی



برنامه های روزانه ی یکی از شبکه های صدا و سیما



ارزشیابی معلم :