

○ مانند نمونه هر شکل را به عبارت و جمله‌ی مناسب وصل کن و در جاهای خالی عدد مناسب بنویس.

$30 + 20 = 50$



۴ ده‌تایی به اضافه‌ی ۲ ده‌تایی می‌شود...

$60 - 10 =$



۴ ده‌تایی منهای ۲ ده‌تایی می‌شود...

$40 + 20 =$



۳ ده‌تایی به اضافه‌ی ۲ ده‌تایی می‌شود ۵ تا

$40 - 20 =$



۶ ده‌تایی منهای ۱ ده‌تایی می‌شود...

$50 + 30 =$



۵ ده‌تایی به اضافه‌ی ۳ ده‌تایی می‌شود...

$70 + 20 =$



۶ ده‌تایی به اضافه‌ی ۲ ده‌تایی می‌شود...

$50 - 30 =$








۷ ده‌تایی به اضافه‌ی ۲ ده‌تایی می‌شود...

$60 + 20 =$










۵ ده‌تایی منهای ۳ ده‌تایی می‌شود...

○ مانند نمونه ها برای هر شکل یک جمع بنویس.

 $6 + 3 =$	 $4 + 2 =$	 $3 + 1 =$	 $\quad + \quad =$	 $5 + 2 =$
--	--	--	--	--

○ با توجه به شکل مانند نمونه در هر قسمت دو جمع بنویس.

$4 + 3 =$ 	$40 + 30 =$ 
$\quad + \quad =$ 	$\quad + \quad =$ 
$\quad + \quad =$ 	$\quad + \quad =$ 
$\quad + \quad =$ 	$\quad + \quad =$ 