




با خط زدن دسته های ده تایی و یکی حاصل تفریق های زیر را به دست آورید.




$$\dots\dots\dots - 12 = \dots\dots\dots$$



$$\dots\dots\dots - 24 = \dots\dots\dots$$




$$\dots\dots\dots - 32 = \dots\dots\dots$$



$$\dots\dots\dots - 46 = \dots\dots\dots$$

جمع $22 + 35$ را به صورت ستونی بنویسید و چگونه به دست آوردن حاصل آن ها را توضیح دهید.



.....
.....

حاصل جمع و تفریق های زیر را به دست آورید.

$$\begin{array}{r} 32 \\ + 17 \\ \hline \end{array}$$

$$\begin{array}{r} 81 \\ - 30 \\ \hline \end{array}$$

$$\begin{array}{r} 48 \\ + 30 \\ \hline \end{array}$$

$$\begin{array}{r} 48 \\ - 21 \\ \hline \end{array}$$

$$\begin{array}{r} 68 \\ + 21 \\ \hline \end{array}$$

$$\begin{array}{r} 95 \\ - 65 \\ \hline \end{array}$$

با رسم شکل جمع و تفریق های زیر را انجام دهید.

$$\begin{array}{r} 49 \\ - 27 \\ \hline \end{array}$$

$$\begin{array}{r} 35 \\ - 19 \\ \hline \end{array}$$

$$\begin{array}{r} 24 \\ + 28 \\ \hline \end{array}$$

$$\begin{array}{r} 35 \\ + 28 \\ \hline \end{array}$$

$$\begin{array}{r} 43 \\ - 27 \\ \hline \end{array}$$

$$\begin{array}{r} 53 \\ - 24 \\ \hline \end{array}$$

جواب جمع ها و تفریق های زیر را به صورت تقریبی به دست آورید.

$$\begin{array}{r} 48 \\ + 31 \\ \hline \end{array}$$

$$\begin{array}{r} 88 \\ - 52 \\ \hline \end{array}$$

$$\begin{array}{r} 76 \\ + 19 \\ \hline \end{array}$$

$$\begin{array}{r} 65 \\ - 14 \\ \hline \end{array}$$