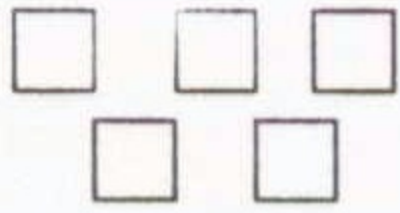

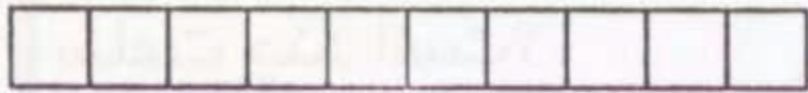

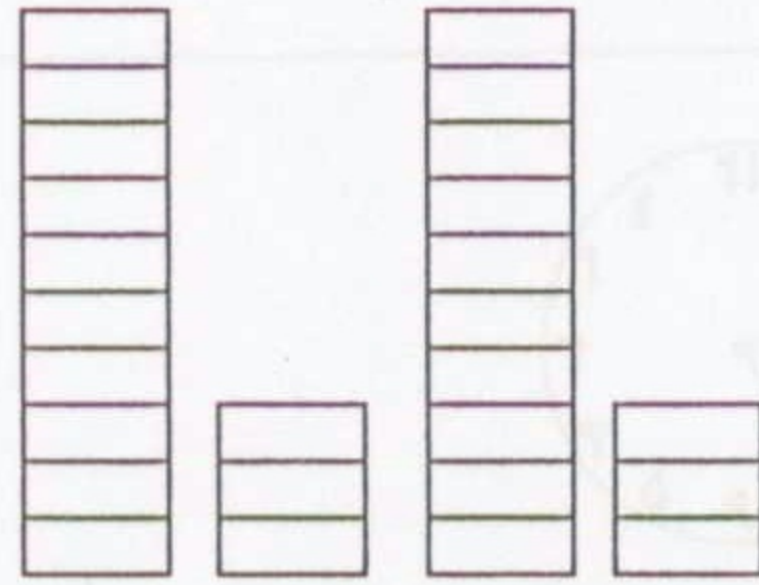


هر شکل چه عددی را نشان می دهد؟



.....



.....

شکل را دسته بندی کنید.



..... دسته ی ده تایی و یکی می شود

..... - ۱۹ =

علامت (< = >) بگذارید.

۴۴ ○ ۴۱

۱۰ + ۲۰ ○ ۶۰ - ۳۰

۹۳ ○ ۳۹

۴۴ - ۴ ○ ۴۴ + ۴

در جاهای خالی عدد مناسب بگذارید.

۱۴ + = ۱۸

۱۲ - = ۲

۸ + = ۱۰

- ۳ = ۶

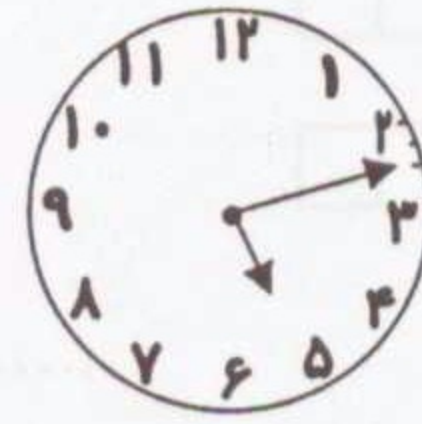
با عددهای ۶، ۷، ۰ هر چند تا عدد دو رقمی که می توانید بسازید و بنویسید.

ساعت ۵:۹ را روی صفحه ی ساعت نشان دهید.

یعنی ساعت به ساعت است.



ساعت چند است؟



..... و

..... و

۵ سال دیگر شیرین ۱۲ ساله می شود. اکنون شیرین چند سال دارد؟

۲۰ نفر سوار اتوبوس می شوند. در ایستگاه اول ۴ نفر پیاده می شوند و ۲ نفر دیگر سوار می شوند در این اتوبوس چند مسافر سوار هستند؟

در هر جعبه ۲۰ کلاه جای می گیرد در ۵ جعبه چند کلاه جای می گیرد؟ (با کمک شکل)

با شکل جمع و تفریق زیر را حل کنید.

۴۹

+ ۱۷

۸۴

- ۲۹