



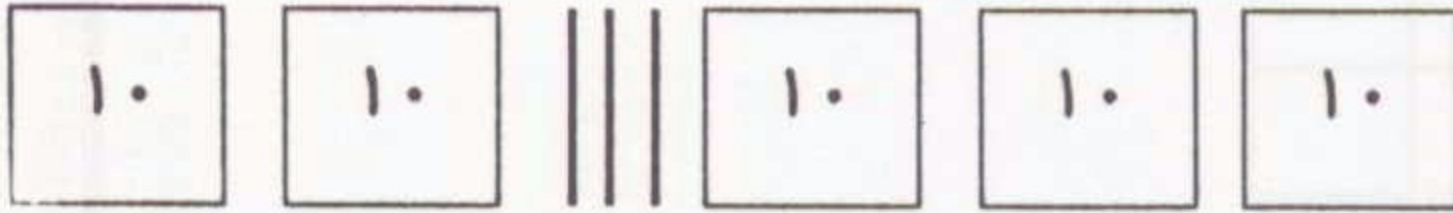
۱- شکل زیر را دسته بندی کنید و در جدول ارزش مکانی قرار بدهید.



به عدد :

به حروف :

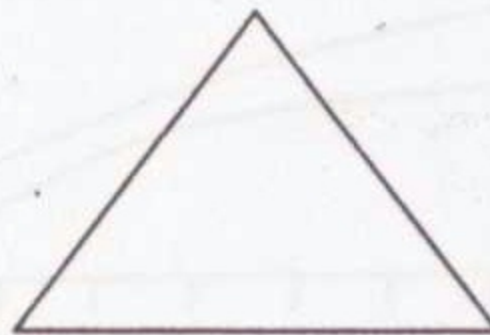

۲- با توجه به عدد ۷۵ شکل را کامل کنید و در جدول ارزش مکانی قرار بدهید.



۳- اول تقریب جمع رو به رو را بدست آورید و سپس به کمک جدول اعداد جمع را حل کنید.

$$\begin{array}{r} 37 \\ + 29 \\ \hline \square \end{array}$$

۴- خط تقارن شکل های زیر را رسم کنید.



۵- جمع و تفریق اعداد زیر را با کمک جدول اعداد حل کنید.

$$\begin{array}{r} 25 \\ + 18 \\ \hline \end{array}$$

$$\begin{array}{r} 59 \\ - 36 \\ \hline \end{array}$$

$$\begin{array}{r} 98 \\ - 59 \\ \hline \end{array}$$

۶- ساعت زیر را حل کنید. (به دو صورت)

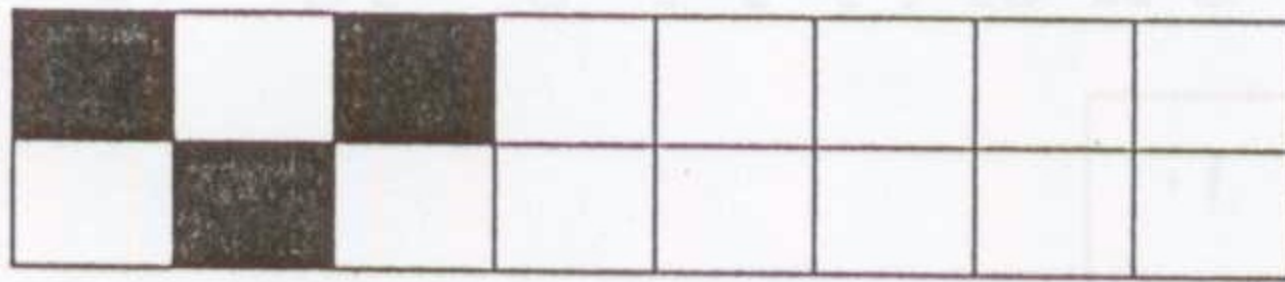


۷- دو شکل مستطیل و مربع را رسم کنید و سپس شباهت و تفاوت دو شکل را بنویسید.

تفاوت

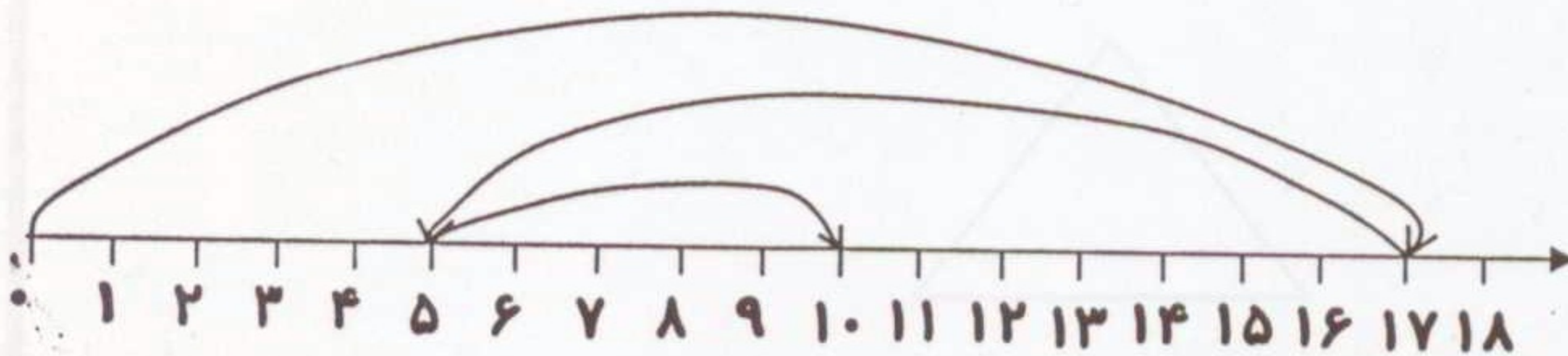
شباهت

۸- الگوی زیر را ادامه بدهید.



۹- با عددهای ۶ - ۹ - ۵ چند عدد دو رقمی مختلف می توانیم بسازیم؟

۱۰- برای محور زیر یک عبارت (جمله ی عددی) بنویسید.



۱۱- مدیا همراه خواهرش باران به یک فروشگاه رفتند. آن ها ۲۵ تا تخم مرغ و ۱۸ تا صابون خریدند. آن ها از فروشگاه چند تا تخم مرغ و صابون خریدند؟