


۱- در شکل زیر با کشیدن خط دسته های ده تایی درست کن و در جاهای خالی عدد مناسب بنویس.



با رقم :

با حروف :

یکی	ده تایی
-----	---------

۲- ۴۰ چند تا دسته ی ده تایی دارد؟

○ ج) ۴ تا

○ ب) ۴۰ تا

○ الف) ۱۴ تا

۳- در جاهای خالی عدد مناسب بگذار.

۸ ده تایی و ۵ یکی برابر است با

۴ ده تایی و ۱ یکی برابر است با

۸۰ برابر است با ده تایی و یکی

۲۶ برابر است با یکی و ده تایی

۴- من چه عددی هستم، اگر یکانم ۷ و دهگانم ۵ تا کم تر از یکانم باشد؟

۵- ساعت های زیر را در جاهای خالی بنویس.



ساعت دقیقه از گذشته است.

ساعت دقیقه مانده تا ساعت شود.

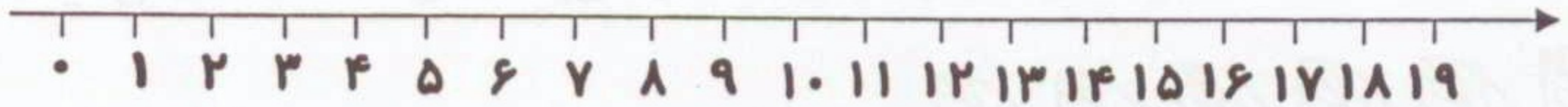


..... :


ساعت چند است؟

۶- جمع و تفریق های زیر را روی محور نشان داده و جواب آن را بنویسید.

$7 + 5 - 4 =$



$8 - 2 + 9 =$



۷- جمع و تفریق های دو رقمی زیر را بنویس.



$$\begin{array}{r} 24 \\ + 75 \\ \hline \end{array}$$

$$\begin{array}{r} 31 \\ + 46 \\ \hline \end{array}$$

$$\begin{array}{r} 82 \\ - 30 \\ \hline \end{array}$$

$$\begin{array}{r} 64 \\ - 33 \\ \hline \end{array}$$

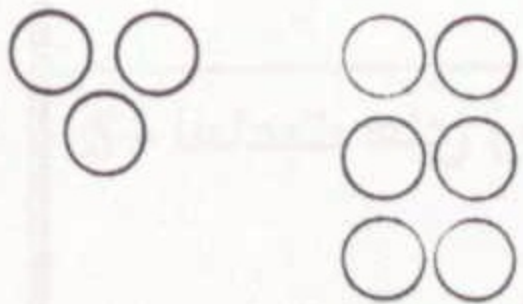
۸- عدد قبل و بعد عدد زیر را بنویس.



۹- الگوهای زیر را ادامه دهید.



.....



.....



.....

۱۰- امروز ۲۵ آبان ماه است پونه یادش آمد که ۵ روز پیش مادرش به او گفته بود که ۷ روز دیگر امتحان ورودی او به کلاس دوم است. حالا چه روزی او امتحان دارد؟