

به نام خالق مهربان

تاریخ:.....

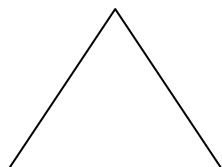
دبستان.....

ارزشیابی ریاضی ششم فصل اول

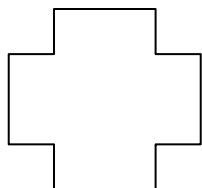
مجتمع آموزشی و پرورشی شهید بهشتی شهرستان سراب

نام و نام خانوادگی:.....

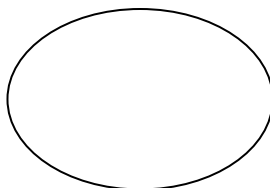
۱- با تقسیم هر شکل به قسمتهای مساوی . کسر مورد نظر را با رنگ کردن نشان دهید. (۲نمره)



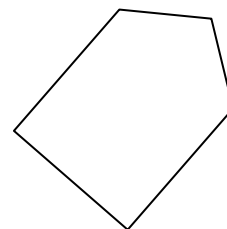
$$\frac{2}{4}$$



$$\frac{5}{8}$$

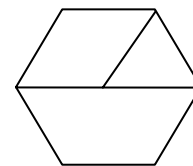
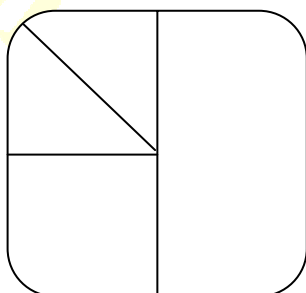


$$\frac{3}{4}$$



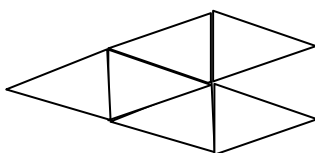
$$\frac{1}{2}$$

۲- شکلهای زیر چه کسری را نشان می دهد؟ (۱نمره)

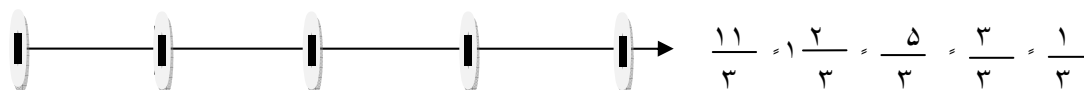


۳- الف) اگر $\frac{6}{4}$ را به صورت شکل زیر نشان دهیم یک واحد کامل آن را به با رنگ کردن نشان دهید. (۲نمره)

ب) روی شکل نشان دهید به چه کسری نیاز دارد تا ۲ واحد کامل شود؟



۴- اعداد زی را روی محور اعداد نشان دهید. (۵.۲نمره)



به نام خالق مهربان

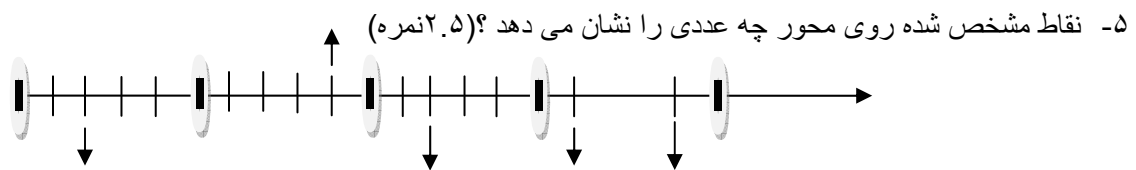
تاریخ:.....

دبستان.....

ارزشیابی ریاضی ششم فصل اول

مجتمع آموزشی و پرورشی شهید بهشتی شهرستان سراب

نام و نام خانوادگی:.....



۶- کسر های زیر را به عدد مخلوط و اعداد مخلوط را به کسر تبدیل کنید . (۳ نمره)

$$\frac{3950}{1000} = \quad \frac{239}{100} = \quad \frac{32}{20} = \quad \frac{20}{15} = \quad \frac{9}{2} =$$

$$3\frac{0}{10} = \quad 5\frac{125}{1000} = \quad 5\frac{12}{20} = \quad 4\frac{25}{30} =$$

۷- علی آقا $\frac{4}{5}$ زمین خود را شخم زده بود که $\frac{2}{4}$ آن را گندم کاشت اگر مساحت زمین او ۵۰۰۰ متر مربع باشد او چند متر مربع از زمین خود را گندم کاشته است؟ (با رسم شکل) (۲.۵ نمره)

$$\frac{2}{5} \bigcirc \frac{3}{7}$$

۸- روش مقایسه دو کسر با مخرجهای نامساوی را توضیح دهید؟ (۲)

$$1\frac{1}{3} \times \left(\frac{2}{3} \div \frac{1}{4} \right) =$$

۹- پاسخ عبارت زیر را بدست آورید. (۲ نمره)