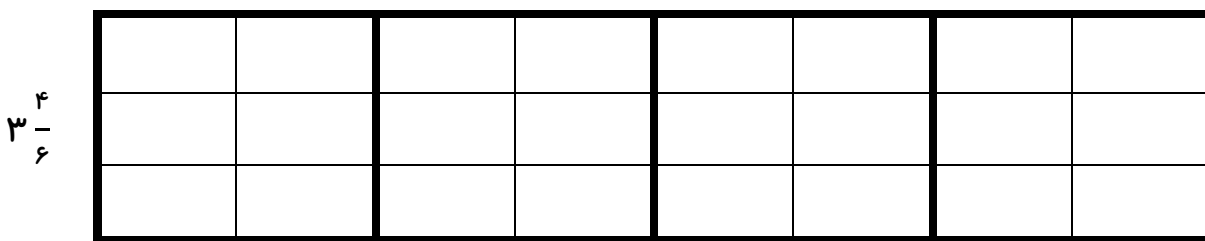
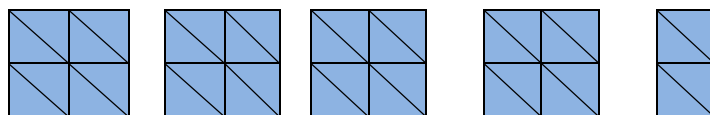


۱_ باتوجه به عدد مخلوط ، شکل را رنگ آمیزی کنید .



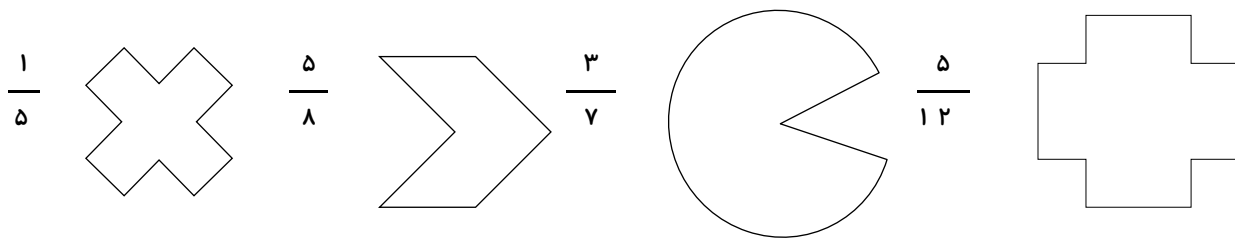
۲_ عدد مخلوط مربوط به هر شکل را بنویسید .



۳_ اگر یک دسته ی صدتایی را یک واحد کامل در نظر بگیریم عدد ۷۱۳ را به عدد مخلوط تبدیل کنید .

اگر یک دسته ی ده تایی را یک واحد کامل در نظر بگیریم عدد ۸۶ را به عدد مخلوط تبدیل کنید .

۴_ با تقسیم هر شکل به قسمت های مساوی کسر مورد نظر را نشان دهید .



۵_ اعداد مخلوط و کسرها را روی محور نشان دهید .

$$2 \frac{4}{6} \quad \frac{5}{3} \quad \frac{5}{6} \quad 1 \frac{2}{6}$$



۶_ برای هر کسر دو کسر مساوی با آن بنویس .

$$\frac{120}{180} =$$

$$\frac{5}{8} =$$