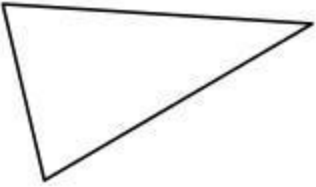


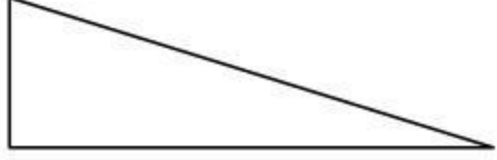




نام و نام خانوادگی: تعداد صفحه: ۲





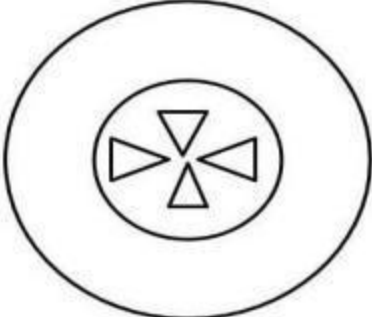

۱- شکل هایی که تعداد ضلع ها و گوشه هایشان با هم برابر است را به هم وصل کنید.

ضلع		ضلع	
گوشه.....		گوشه	
ضلع		ضلع	
گوشه		گوشه	





۲- با کمک خط کش شکل های خواسته شده را بکشید و بنویسید چند گوشه دارند؟

<p>۶ ضلعی</p>  <p>..... گوشه</p>	<p>۵ ضلعی</p>  <p>..... گوشه</p>
---	---

۳- در تصاویر زیر شکل هایی که مانند شکل روبرو است، را رنگ کنید.

					
---	---	---	--	---	---

۴- جملات درست را پیدا کن و صورتک آن را رنگ بزن .

		مستطیل چهار ضلع و چهار گوشه دارد.
		مثلث چهار ضلع و ۳ گوشه دارد.

۵- الگوی عددی را ادامه دهید. - - ۲۸ - ۲۶ - ۲۵


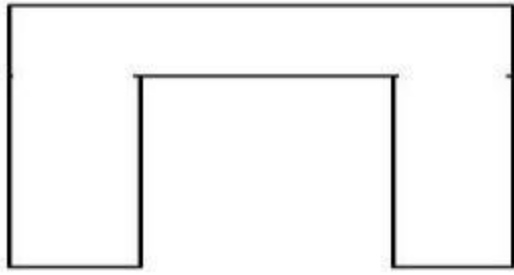
..... - - ۴۲ - ۴۰

۶- عقربه های ساعت را بکشید.



۹:۴۰

۷- با یک خط کش هر شکل را به دو قسمت مساوی تقسیم کنید.

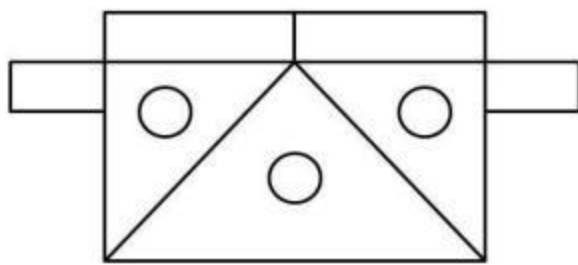




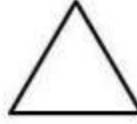

۸- فاطمه هر روز صبح ساعت ۷ بیدار می شود. بعد از نیم ساعت به مدرسه می رود. او چه ساعتی به مدرسه می رود؟

۹- مهدی نیم ساعت مانده به ۱۰ به کتاب خانه رسید. او چه زمانی به کتاب خانه رسیده است؟

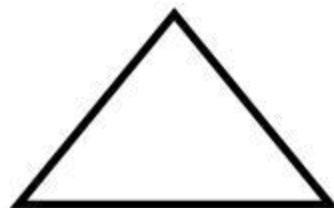
۱۰- با اشکال مربع، مستطیل، دایره و مثلث، یک شکل بکشید.

۱۱- در شکل زیر به تعداد هر شکل، چوب خط بکشید.

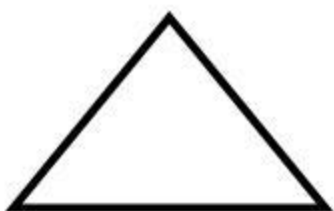


شکل	نام	چوب خط
		
		
		
		

۱۲- وسط ضلع های را پیدا کنید و با خط کش به هم وصل کنید.



۱۳- به دو شکل زیر نگاه کنید و تفاوت و شباهت آن ها را بنویسید.



تفاوت:

شباهت:

نظر آموزگار:

نزدیک به انتظار

قابل قبول

خوب

خیلی خوب