

به نام خداوند بخشندهی مهربان

آزمون ریاضی پایه‌ی چهارم دبستان فصل ۱ تا ۵

نام و نام خانوادگی: _____

دبستان: _____

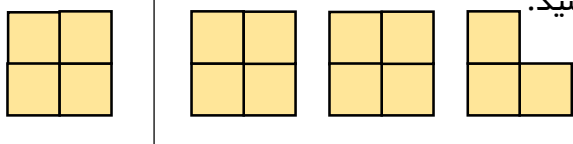
تاریخ: / /

شماره کلاسی: _____

۱- عددهای زیر را با رقم بنویسید.

بیست و سه میلیون و چهارصد و نه هزار و پانصد و بیست و چهارده و سه دهم

۲- با توجه به واحد داده شده ، عدد مخلوط مربوط به شکل زیر را بنویسید.



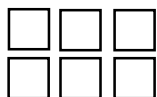
۳- در جاهای خالی عدد مناسب بنویسید.

$$\frac{۴}{۷} = \frac{۱۲}{\quad}$$

$$\frac{۱۰}{۲۴} = \frac{\quad}{۱۲}$$

۹۰ دقیقه یعنی ساعت و دقیقه

۴- شکل رو به رو را رنگ کنید. $\frac{۲}{۳}$



۵- روی محور زیر ، عددی را که با پیکان مشخص شده است ، به صورت عدد مخلوط و عدد اعشاری بنویسید.



۶- اندازه‌ی زاویه‌ی مورد نظر را به دست آورید.




۷- در جاهای خالی علامت $<=>$ بگذارید.

$$\frac{۱}{۲} \bigcirc \frac{۴}{۶}$$

$$\frac{۴}{۵} \bigcirc \frac{۳}{۱۲}$$

$$۲۰۳۴۵ \bigcirc ۳۰۲۴۵$$

۸- با توجه به شکل‌ها ، به سؤال‌های زیر پاسخ دهید.



طول نوار (آ) چند برابر نوار (ب) است؟



طول نوار (ب) چه کسری از نوار (آ) است؟

به نام خداوند بخشندهی مهربان

آزمون ریاضی پایه‌ی چهارم دبستان فصل ۱ تا ۵

نام و نام خانوادگی:

دبستان:

تاریخ: / /

شماره کلاسی:

۹- حاصل تفریق زیر را به کمک محور انجام دهید.



$$\frac{3}{1} - \frac{2}{4} =$$

۱۰- حاصل ضربهای زیر را به دست آورید.

$$\begin{array}{r} 374 \\ \times 12 \\ \hline \end{array}$$

$$\begin{array}{r} 500 \\ \times 240 \\ \hline \end{array}$$

$$6 \times \frac{5}{45} =$$

۱۱- تقسیمهای زیر را انجام دهید.

$$54 \overline{) 7}$$

$$485 \overline{) 22}$$

۱۲- می‌خواهیم ۲ بسته‌ی ۱۲ تایی مداد را بین ۳ نفر تقسیم کنیم. به هر نفر چند مداد می‌رسد؟

نظر آموزگار:

نیاز به تلاش بیشتر

قابل قبول

خوب

خیلی خوب