



## آدینه ی پایه ی چهارم



۱. ارتفاع متوازی الاضلاعی ۳۰ سانتی متر و قاعده آن ۸ سانتی متر است . مساحت چقدر است؟

۲. مساحت شکل های زیر را به دست آورید.



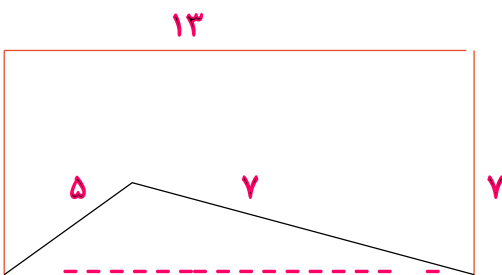
ارتفاع = ۱۲

قاعده = ۷



طول = ۵

عرض = ۲



۳. قاعده و ارتفاع را تعریف کرده و در یک مثلث دلخواه مشخص کنید .



## آدینه ی پایه ی چهارم



۱) معنی متن زیر را بنویسید.

مشک آن است که خود ببوید؛ نه آنکه عطار بگوید. دانا چون طبله ی عطار است، خاموش و هنر نمای و نادان چون طیل غازی ، بلند آواز و میان تهی.

۲) در درس ادب از که آموختی ، منظور از عبارت «آموخت و نکرد» چیست ؟

۳) چرا سعدی ، عالم بی عمل را به زنبور عسل تشبیه کرده است ؟

۴) در جمله های زیر ، اجزای آن را نام ببرید.

رمیصا معلم را دید.

کوثر توت فرنگی را خورد .



## آدینه ی پایه ی چهارم



۱. گلیول قرمز چیست؟ چه کاری انجام می دهد؟

۲. قلب چه کاری انجام می دهد؟

۳. سرخرگ چه کاری انجام می دهد؟

۴. سیاهرگ در بدن چه کاری انجام می دهد؟

۵. مویرگ چیست؟ در بدن چه کاری انجام می دهد؟

۶. وجود نبض نشان دهنده ی چیست؟

