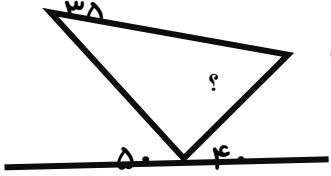

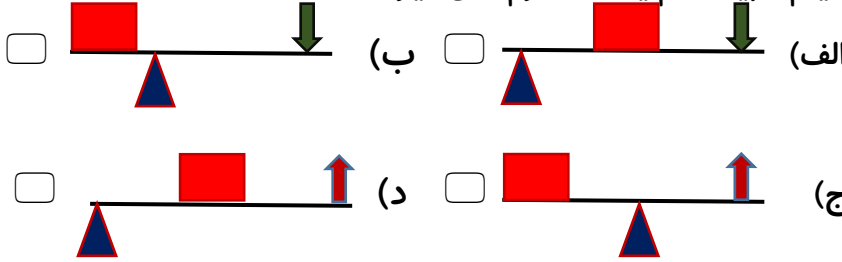



۱	مجموع زوایای داخلی چهارضلعی چند درجه است؟ الف) ۹۰ (<input type="checkbox"/>) ب) ۱۲۰ (<input type="checkbox"/>) ج) ۱۸۰ (<input type="checkbox"/>) د) ۳۶۰ (<input type="checkbox"/>)
۲	کدام یک از گزینه های زیر می تواند اندازه سه زاویه ی مثلث باشد؟ الف) ۶۰-۶۰-۶۰ (<input type="checkbox"/>) ب) ۴۵-۴۵-۹۰ (<input type="checkbox"/>) ج) ۹۰-۳۰-۶۰ (<input type="checkbox"/>) د) تمام موارد صحیح است. (<input type="checkbox"/>)
۳	نوعی متوازی الاضلاع که دوزاویه ی تند و دو زاویه ی باز دارد... الف) دوزنقه (<input type="checkbox"/>) ب) لوزی (<input type="checkbox"/>) ج) مربع (<input type="checkbox"/>) د) مستطیل (<input type="checkbox"/>)
۴	اندازه ی زاویه ب چه قدر می باشد؟  الف) ۶۰ (<input type="checkbox"/>) ب) ۱۲۰ (<input type="checkbox"/>) ج) ۵۵ (<input type="checkbox"/>) د) ۹۰ (<input type="checkbox"/>)
۵	شکل رو به رو چند خط تقارن دارد؟  الف) خیلی (<input type="checkbox"/>) ب) دو تا (<input type="checkbox"/>) ج) یکی (<input type="checkbox"/>) د) ندارد (<input type="checkbox"/>)
۶	کلمه ی نویس را به کدام واژه نمی توان اضافه کرد؟ الف) خوش (<input type="checkbox"/>) ب) داستان (<input type="checkbox"/>) ج) نمایش (<input type="checkbox"/>) د) برنامه (<input type="checkbox"/>)
۷	کدام یک از کلمه های زیر با (با - بی) ترکیب نمی شود؟ الف) کار (<input type="checkbox"/>) ب) ادب (<input type="checkbox"/>) ج) سلیقه (<input type="checkbox"/>) د) حوصله (<input type="checkbox"/>)
۸	منظور از کلمه ی نظامیه چیست؟ الف) مدارس شبانه روزی که نظامیان در آنجا تحصیل می کردند. (<input type="checkbox"/>) ب) دانشگاه های شبانه روزی که دانشمندان در آن جاتحقیق می کردند. (<input type="checkbox"/>)

	ج) مدرسه ها یادانشگاههایی که خواجه نظام الملک بنا کرده بود. (<input type="checkbox"/>) د) مدرسه ها یادانشگاههایی که خواجه نصیر توسی بنا کرده بود. (<input type="checkbox"/>)
۹	شبانگاه به معنی هنگام شب و سحرگاه به معنی هنگام سحر است. گاه در این جمله ها به چه معنی به کار رفته است؟ الف) ساعت (<input type="checkbox"/>) ب) مکان (<input type="checkbox"/>) ج) زمان (<input type="checkbox"/>) د) قسمتی از شب و روز (<input type="checkbox"/>)
۱۰	دریبت بال در بال پرستوهای خوب - می رسد اخر سوار سبزپوش منظور از سبزپوش چیست؟ الف) سربازی با لباس سبز (<input type="checkbox"/>) ب) فصل بهار (<input type="checkbox"/>) ج) سپاه سبزپوش (<input type="checkbox"/>) د) امام زمان (عج) (<input type="checkbox"/>)
۱۱	دیلم شبیه کدام یک از اهرم های زیر است؟  الف) (<input type="checkbox"/>) ب) (<input type="checkbox"/>) ج) (<input type="checkbox"/>) د) (<input type="checkbox"/>)
۱۲	گردو شکن شبیه کدام اهرم است؟ الف) الاکلنگ (<input type="checkbox"/>) ب) انبردست (<input type="checkbox"/>) ج) منگنه (<input type="checkbox"/>) د) فرغون (<input type="checkbox"/>)
۱۳	نیرو بر کدام نقطه وارد شود تا سطل آب، بانیروی کمتری جابه جاشود؟  الف) ۱ (<input type="checkbox"/>) ب) ۲ (<input type="checkbox"/>) ج) ۳ (<input type="checkbox"/>) د) ۴ (<input type="checkbox"/>)

پیک اسفند (۱۱)

کلاس پنجم



نام و نام خانوادگی: ۲ اسفند ماه ۹۶

۱۴	مهم ترین نصف النهار چه نام دارد؟ الف) نصف النهار فرضی <input type="checkbox"/> ب) نصف النهار مبدأ <input type="checkbox"/> ج) خط استوا <input type="checkbox"/> د) مدار <input type="checkbox"/>
۱۵	به نتیجه ی حرکت چرخشی زمین چه می گویند؟ الف) سال <input type="checkbox"/> ب) هفته <input type="checkbox"/> ج) شبانه روز <input type="checkbox"/> د) ماه <input type="checkbox"/>
۱۶	به دایره های فرضی که به موازات استوا، رسم شده اند چه می گویند؟ الف) نصف النهار <input type="checkbox"/> ب) خط استوا <input type="checkbox"/> ج) نصف النهار مبدأ <input type="checkbox"/> د) مدار <input type="checkbox"/>
۱۷	کشور ایران و همسایگانش در کدام قاره قرار دارند؟ الف) استرالیا <input type="checkbox"/> ب) اروپا <input type="checkbox"/> ج) آسیا <input type="checkbox"/> د) آمریکا <input type="checkbox"/>
۱۸	کدام اقیانوس بین قاره ی آمریکا و قاره ی آفریقا قرار گرفته است؟ الف) آرام <input type="checkbox"/> ب) هند <input type="checkbox"/> ج) اطلس <input type="checkbox"/> د) منجمد جنوبی <input type="checkbox"/>
۱۹	حضرت عیسی (ع) مژده ی آمدن کدام پیامبر را داده است؟ الف) حضرت یعقوب (ع) <input type="checkbox"/> ب) حضرت عیسی (ع) <input type="checkbox"/> ج) حضرت ابراهیم (ع) <input type="checkbox"/> د) حضرت محمد (ص) <input type="checkbox"/>
۲۰	امام زمان (عج) چه روزی ظهور می کند؟ الف) دوشنبه <input type="checkbox"/> ب) سه شنبه <input type="checkbox"/> ج) پنج شنبه <input type="checkbox"/> د) جمعه <input type="checkbox"/>
مخصوص والدین	یک خصلت مثبت در مورد فرزندم: یک ویژگی که توقع دارم رعایت کند.