

## بسمه تعالی

دبستان:

کلاس:

نام و نام خانوادگی:

آزمون ریاضی سوم ابتدایی

(فصل ۵)

تاریخ:

مدت آزمون:

سوال ۱: علی ۵ بسته ۴ تایی مداد و ۶ بسته ی ۳ تایی پاک کن دارد.

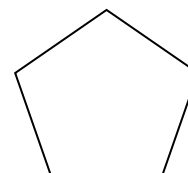
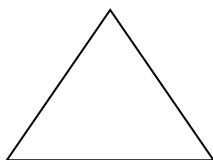

الف) علی چند عدد مداد دارد؟

ب) علی چند عدد پاک کن دارد؟

ج) علی چند عدد مداد و پاک کن دارد؟

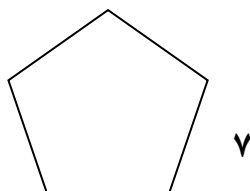
سوال ۲: خط راست ((آد)) را با خط کش رسم کرده و روی آن دو نقطه ی ((س)) و ((م)) را انتخاب کنید، پاره خط ((س م)) را با خط کش اندازه بگیرید سپس پاره خطی به همان اندازه رسم کنید سپس بگویید چرا در دو سر پاره خط نقطه قرار می دهیم.

سوال ۳: شکل های زیر را نام گذاری کنید سپس بگویید هر شکل چه نام دارد؟

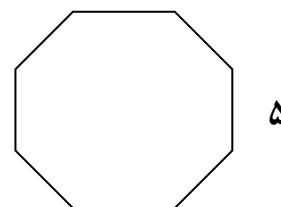


سوال ۴: نام هر شکل را بنویسید سپس محیط آن را به کمک ضرب پیدا کنید.

الف)



ب)



## بسمه تعالی

دبستان:

کلاس:

نام و نام خانوادگی:

آزمون ریاضی سوم ابتدایی

(فصل ۵)

تاریخ:

مدت آزمون:

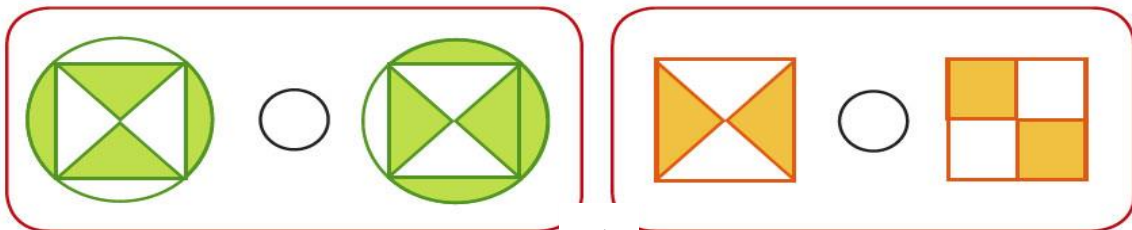
سوال ۵: الف) به اندازه سطح هر شکل ..... آن شکل می گویند .

ب) اندازه دور تا دور هر شکل را ..... آن شکل می گویند .

سوال ۶: مساحت قسمت رنگ شده کدام شکل بیشتر است ؟

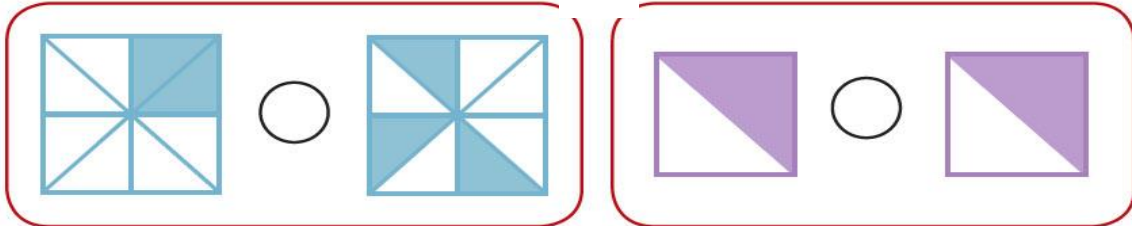
ب)

الف)



د)

ج)




سوال ۷: مساحت شکل های زیر را بدست آورید .

ب)

الف)

۴ سانتی متر



۶ سانتی متر



۴ سانتی متر

سوال ۸: پدر رضا یک میز  $3 \times 5$  متر خریده است مساحت سطح این میز چند متر مربع است ؟

## بسمه تعالی


### پاسخنامه

#### آزمون ریاضی سوم ابتدایی

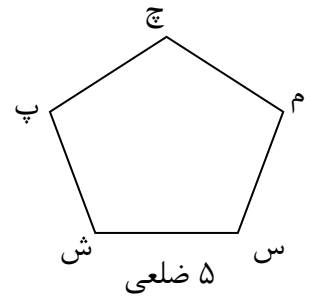
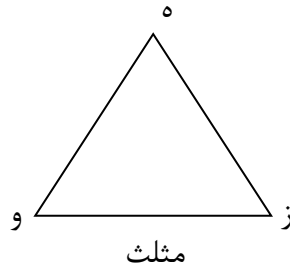
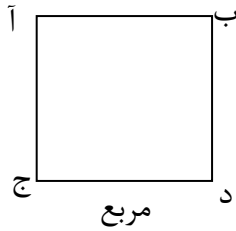
( فصل ۵ )

سوال ۱: الف)  $۲۰ = ۵ \times ۴$ ، عدد مداد دارد. ب)  $۱۸ = ۳ \times ۶$ ، عدد پاک کن دارد. ج)  $۳۸ = ۲۰ + ۱۸$ ، عدد دارد.

سوال ۲: چون پاره خط از هر دو طرف بسته است.



سوال ۳:



سوال ۴: الف)  $۴۰ = ۵ \times ۸$ ، ۸ ضلعی، ب)  $۳۵ = ۷ \times ۵$ ، ۵ ضلعی

سوال ۵: الف) مساحت ب) محیط

سوال ۶: الف)  $(ب) < (ج) < (د) =$

سوال ۷: الف)  $۲۴ = ۶ \times ۴$  ب)  $۱۶ = ۴ \times ۴$

سوال ۸: ۱۵ متر مربع  $۱۵ = ۳ \times ۵$