


۱- دایره های زیر را دسته بندی کنید.



به رقم به حروف

با توجه به شکل تفریق زیر را حل کنید.

$$\dots - ۱۲ = \dots$$

۲- ابتدا حاصل تقریبی عبارت زیر را حساب کنید سپس تفریق کنید.

$$\begin{array}{r} ۵۷ \rightarrow \\ - ۱۴ \rightarrow \\ \hline \end{array}$$

$$\begin{array}{r} ۳۸ \rightarrow \\ - ۱۵ \rightarrow \\ \hline \end{array}$$

۳- در مراسم جشن تولد خواهرم در هر سینی ۱۰ استکان چای می گذارند ۶ سینی آورند یعنی چند استکان؟

۴- با عددهای ۷-۸-۹ چند عدد دو رقمی مختلف می توانیم بسازیم؟

۵- جمع و تفریق های زیر را به کمک جدول حل کنید.

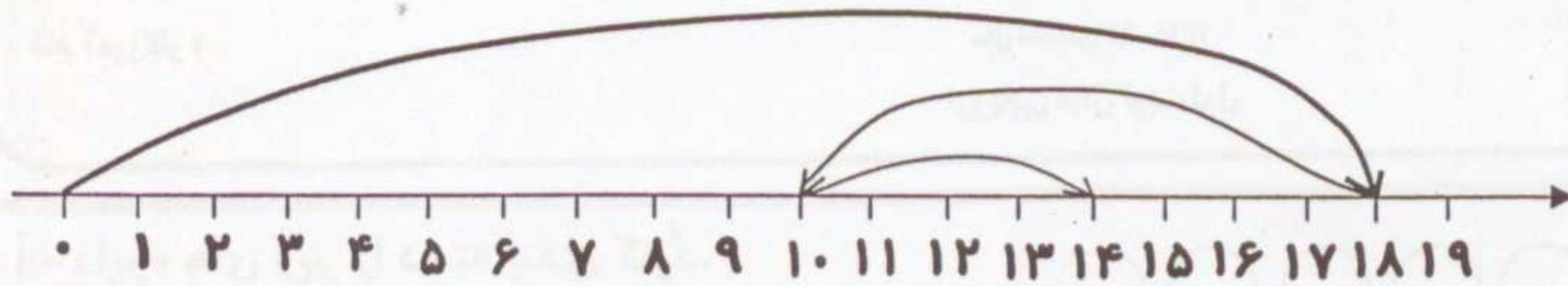
$$\begin{array}{r} ۳۴ \\ + ۲۵ \\ \hline \end{array}$$

$$\begin{array}{r} ۱۹ \\ + ۶۰ \\ \hline \end{array}$$

$$\begin{array}{r} ۷۸ \\ - ۲۹ \\ \hline \end{array}$$

$$\begin{array}{r} ۳۳ \\ - ۱۷ \\ \hline \end{array}$$

۶- برای محور زیر یک عبارت (جمله ی عددی) بنویسید.



۷- علامت < = > بگذارید.

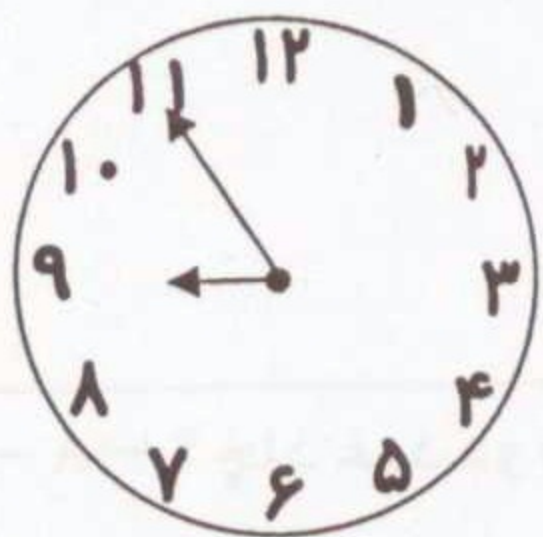
$70 + 10 \bigcirc 60 + 30$

$10 + 20 \bigcirc 30 - 10$

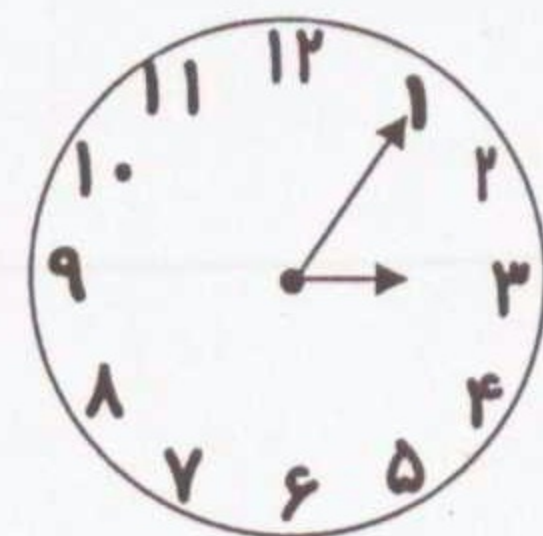
$10 + 10 \bigcirc 40 - 20$

۸- نیوشا ۱۲ ساله است برادرش از او ۷ سال بزرگ تر است. مادر نیوشا از برادرش ۲۲ سال بزرگ تر است. حالا سن مادر نیوشا چند است ؟ (با راه حل)

۹- ساعت های زیر را بنویسید.



ساعت دقیقه :



ساعت دقیقه از گذشته است.

۱۰- جاهای خالی را پر کنید.

۷۸ یعنی ده تایی و یکی.

۷ ده تایی و ۹ یکی می شود

۳۲ یعنی ده تایی و یکی

۹۳ یعنی یکی و ده تایی